




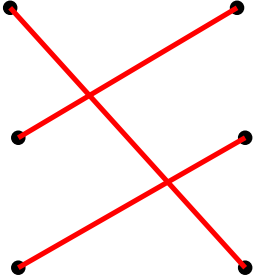


Calculer avec des nombres décimaux

Additionner des décimaux : découverte
















CORRIGÉ

À TON TOUR !




1. Relie le dessin avec l'écriture décimale correspondante.

		0,7
		1,8
		1,1

2. Écris l'opération correspondant au dessin, comme dans l'exemple.

 $+$  $=$ 	$1,1 + 1,9 = 3$
 $+$  $=$ 	$2,3 + 1 = 3,3$
 $+$  $=$ 	$1,8 + 1,3 = 3,1$
 $+$  $=$ 	$1,5 + 1,5 = 3$
 $+$  $=$ 	$0,7 + 0,5 = 1,2$

3. Dessine le résultat de l'addition, puis écris l'opération correspondante, comme dans l'exemple.

	$1,7 + 1,5 = 3,2$
	$1 + 1,5 = 2,5$
	$0,2 + 0,4 = 0,6$