

Prénom :

Date :

Mathématiques
LES FRACTIONS

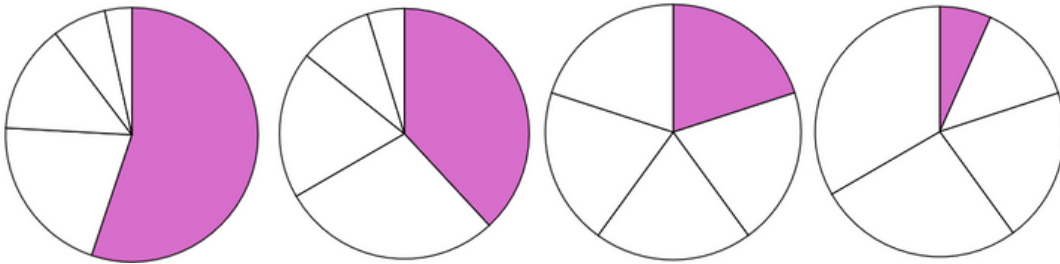
La fraction $\frac{1}{5}$ Exercices d'application

– Savoir interpréter,
représenter, écrire et lire les
fractions $\frac{1}{2}$, $\frac{1}{3}$, $\frac{1}{4}$, $\frac{1}{5}$, $\frac{1}{6}$, $\frac{1}{8}$ et $\frac{1}{10}$.



1

Amir, Bastien, Chloé, Dora et Elliott se partagent une pizza.
Entoure la situation où le partage est équitable, puis écris la fraction correspondant à la part d'Amir.



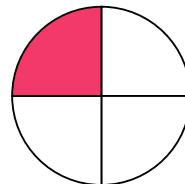
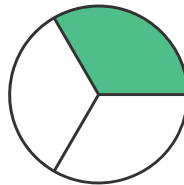
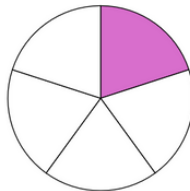
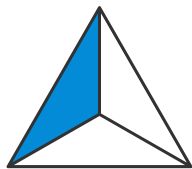
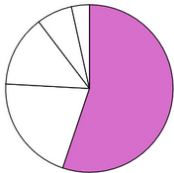
2

Coupe ce gâteau en cinq parts égales (colorie).



3

Entoure les représentations de “un cinquième”.



$\frac{1}{5}$

$\frac{1}{4}$

