

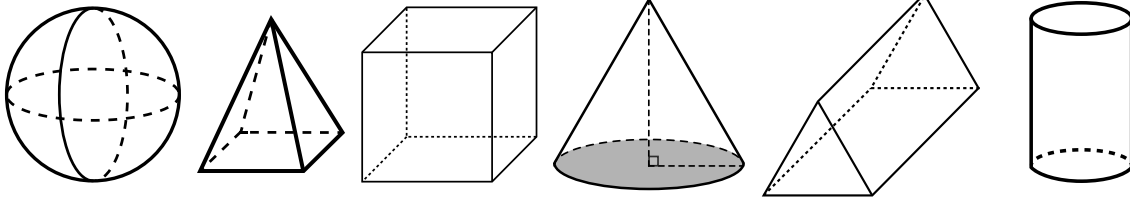
Prénom :

Date :



LES SOLIDES : ENTRAÎNEMENT

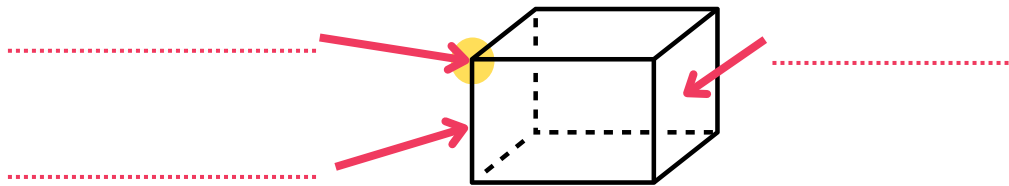
1) Colorie en **bleu** les solides qui roulent, et en **vert** les solides qui ne roulent pas.



2) Comment appelle-t-on des solides qui ne roulent pas ?

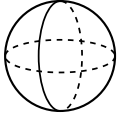

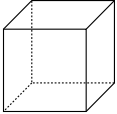
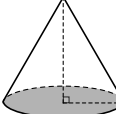
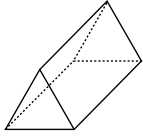

- Ce sont des **carrés**.
- Ce sont des **polyèdres**.
- Ce sont des **cônes**.

3) Complète la légende avec les mots de la boîte.



face
arête
sommets

4) Complète le tableau..

						
nom	boule				prisme	
faces	1			2		
sommets						
arêtes		8				